



**SINDHI HIGH SCHOOL K.K.ROAD, BANGALORE-1**

**PERIODIC TEST-III 2023-24**

**SUBJECT – ENGLISH**

Date: 06/02/2024

Class: V

No. of printed sides: 4

Marks: 30

Reading Time: 8-8:10 am

Writing Time: 8:10-9:10 am

- **GENERAL INSTRUCTIONS:**
- 10-minute prior reading time allotted for Q-paper reading.
- The Question Paper contains THREE sections-**READING-5M, GRAMMAR & WRITING 10M and LITERATURE-15M.**
- Attempt questions based on specific instructions & write correct answers to the correct questions.
- Adhere to the word limit

**Section A - Reading**

**1. Read the text carefully:**

1. Amelia Earhart stood with her father, watching the airplanes swoop and dive. They were watching an air show at Long Beach. Amelia was very excited. She knew what she wanted to do. She wanted to fly!
2. Flying was rough and dangerous. Planes were unsafe and they often crashed. Yet Amelia wanted to fly in a plane. Her father said that she could take a short flight. Amelia felt thrilled as the pilot took off. From high in the sky, she could see the ocean and the Hollywood hills. The sight was so wonderful that she was sure she wanted to be a pilot.
3. So, she began to take classes. Once she could fly, she wanted her own plane. She took several small jobs and saved every penny. By the time she was twenty-four, she had saved enough money to buy a tiny plane. It was called Canary because it was painted a bright yellow. In the beginning, Amelia had many small accidents when flying. These accidents made other people worry a lot. But Amelia was not worried about them.

4. Later that year, Amelia made her first solo flight. The take-off was difficult, but she did it. Then she flew up high over the airfield. Now she was free to be alone in the sky as much as she liked.

**Answer the questions:**


- i. What did Amelia see from the skies?
- ii. How did she manage to buy herself a plane?
- iii. What was the cause of worry for others?

**Complete the following:**

- iv. The take-off was difficult when \_\_\_\_\_ . She flew up high over the airfield and was \_\_\_\_\_ .
- v. **Find the words from the passage that are the antonyms (opposites) of:**  
a) soar: \_\_\_\_\_ (Para 1)      b) easy: \_\_\_\_\_ (Para 4)

**Section B - Writing & Grammar**

- II. **Look at the pictures below and write a story. Give it a suitable title.**



**III. Complete the following by adding suitable prefixes and suffixes to the words in the brackets:**

Nowadays technology has brought about a lot of a) \_\_\_\_\_. (happy) For people who knew about wired telephones, the mobile phone is a great invention! As the name suggests, the device is a b) \_\_\_\_\_ (cord) one which makes it portable. If you don't want to attend a call, you can even c) \_\_\_\_\_ (connect) it, though many people may call you d) \_\_\_\_\_ (polite) for doing so!

2

**IV. Choose the suitable conjunctions from the brackets given below and fill in the blanks:**

(or, but, although, and, because, till)

Sudhir a) \_\_\_\_\_ Sanjay were selected for the basketball match. b) \_\_\_\_\_ there were many good players, the coach selected only these two boys. They practiced c) \_\_\_\_\_ noon d) \_\_\_\_\_ it started to get unbearably hot. The boys had two choices, then. They could either go back home e) \_\_\_\_\_ they could drink some cold juice, f) \_\_\_\_\_ the stalls nearby sold only ice-creams.

3

**Section C – Literature**

**V. Read the given extract and answer the questions that follow:**

“Those who deny you this award do not know the meaning of the stars in our flag. But it's up to us to make them know.”

Name the lesson and its author from which the above lines have been extracted.

- a. Who says these words and to whom?
- b. Who denies the award and why?
- c. What does the speaker decide to do right after she has spoken the above words?
- d.

1  
1  
1  
1

**VI. Answer the following questions in 30-40 words:**

- |    |  |   |
|----|--|---|
| 1. | Where did Zai Whitaker's family gather together to discuss about nature?   | 2 |
| 2. | In the poem 'The Roadside Locksmith,' why should we not worry if we lose a key or a lock? Who has written this poem? | 2 |
| 3. | What kind of memories does Zai Whitaker have of her Salim Mamoo?   | 2 |

**VII. Answer the following question in 70-80 words:**

- |    |  |   |
|----|--|---|
| 1. | Write the character sketch of Nancy Lee Johnson. | 5 |
|----|--|---|



## SINDHI HIGH SCHOOL K K ROAD

### III Periodic Test

#### Subject: II language kannada

Class: V

Date: 8/1/24

No of sides:04

Max Marks: 30

Duration: 1 hours

Reading time: 8am- 8.10am

Writing time : 8.10am – 9.10am

**I.ಕೆಳಗಿನ ಗದ್ಯಭಾವನ್ನು ಓದಿ,ಕೊಟ್ಟಿರುವ ಪ್ರಶ್ನೆಗಳಿಗೆ ಸರಿಯಾದ ಉತ್ತರವನ್ನು ಆರಿಸಿ ಬರೆಯಿರಿ.** **1x5=5**

ಭಾರತದಲ್ಲಿ ಗಾಳಿಪಟದ ಆಟ ಬಹಳ ವರ್ಷಗಳಿಂದ ಆಚರಣೆಯಲ್ಲಿದೆ. ಗ್ರೀಸ್ ದೇಶದ ಅಚಿಟಿಸ್ ಎಂಬುವವನು ರಚನೆಯನ್ನು ಕಂಡುಹಿಡಿದನು. ಚೀನಾದ ಹನ್ನನ್ ಎಂಬ ಸೇನಾಧಿಪತಿ ಯುದ್ಧ ತಂತ್ರದಲ್ಲಿ ಬಳಕೆಗಾಗಿ ಗಾಳಿಪಟವನ್ನು ಬಳಸುತ್ತಿದ್ದನು. ಭಾರತದಲ್ಲಿ ಆಷಾಢ -ಶ್ರಾವಣ ಮಾಸದಲ್ಲಿ ಗಾಳಿಪಟವನ್ನು ಹಾರಿಸುತ್ತಾರೆ. ಚೀನಾದಲ್ಲಿ ಗಾಳಿಪಟ ಸ್ಪರ್ಧೆ 'ರಾಷ್ಟ್ರೀಯ ಆಟ' ಎನಿಸಿದೆ. ವರ್ಷದ ಒಂಬತ್ತನೆಯ ದಿನ ಗಾಳಿಪಟದ ದಿನವನ್ನಾಗಿ ಆಚರಿಸುತ್ತಾರೆ. ಆಗ ಮೀನು,ಹಕ್ಕಿ,ಚಿಟ್ಟೆ,ಭೂತ ಇತ್ಯಾದಿ ಆಕಾರಗಳಲ್ಲಿಗಾಳಿಪಟ ರಚಿಸಿ ಹಾರಿಸುತ್ತಾರೆ.ಸಡಗರದ ದಿನವನ್ನು ಎತ್ತರಕ್ಕೇರಿಸುವ ಹಬ್ಬವೆಂದು ಕರೆಯುವರು. ಜಪಾನ್ ದೇಶದಲ್ಲಿ ಪ್ರತಿ ಕುಟುಂಬದವರು ತಮ್ಮ ಮನೆಯ ಗಂಡು ಮಕ್ಕಳಿನ ಸಂಖ್ಯೆಯಷ್ಟು ಪಟವನ್ನು ಮನೆಯೆದುರು ಮೇ ಳಿ ರಂದು ಹಾರಿಸುತ್ತಾರೆ.

ಹಿಂದೆ ಗಾಳಿಪಟವನ್ನು ಬೇರೆ ಬೇರೆ ಉದ್ದೇಶಗಳಿಗಾಗಿ ಬಳಸುತ್ತಿದ್ದರು. ಬೆಟ್ಟಗುಡ್ಡಗಳಂತ ಸ್ಥಳಗಳಿಗೆ ಹೋಗಿ, ಹಿಂದಿರುಗಲು ಕಷ್ಟ ಪಡುತ್ತಿದ್ದ ಜನರಿಗೆ ಆಹಾರವನ್ನು ಸರಬರಾಜು ಮಾಡಲು ಉಪಯೋಗಿಸುತ್ತಿದ್ದರು. ಸೈನಿಕರು ನಗರ ಪ್ರವೇಶಿಸಲು ಈ ಪಟದಲ್ಲಿ ಕುಳಿತು ಗೋಡೆ ಏರಿ ಒಳಕ್ಕೆ ಇಳಿಯುತ್ತಿದ್ದರು.ರೈತರು ಗಾಳಿ-ಮಳೆ ಮುನ್ನೂಚನೆ ತಿಳಿಯಲು, ಹೀಗೆ ಹಲವಾರು ಉಪಯೋಗಗಳಿಗೆ ಇದನ್ನು ಇಂದಿಗೂ ಬಳಸುತ್ತಾರೆ. ವಿಜ್ಞಾನ ವಿಭಾಗದಲ್ಲಿ ಅಮೆರಿಕಾದ ಬೆಂಜಮಿನ್ ಫ್ರಾಂಕ್ಲಿನ್ ಮಿಂಚಿನಲ್ಲಿ ವಿದ್ಯುತ್ ಇದೆ ಎಂದು ತೋರಿಸಲು ಗಾಳಿಪಟದ ಸಹಾಯವನ್ನು ಪಡೆದ. ಹೀಗೆ ಗಾಳಿಪಟದ ಉಪಯೋಗ ಬಹಳಷ್ಟಿದೆ.

೧. ಮಿಂಚಿನಲ್ಲಿ ವಿದ್ಯುತ್ ಇದೆ ಎಂದು ತೋರಿಸಲು ಗಾಳಿಪಟದ ಸಹಾಯವನ್ನು ಪಡೆದ ವಿಜ್ಞಾನಿ.....

ಅ) ಅರ್ಕಿಮಿಡಿಸ್

ಆ) ವಿಕ್ರಮಂ ಸಾರಾಭಾಯ್

ಇ) ಯು.ಆರ್.ರಾವ್

ಈ)ಬೆಂಜಮಿನ್ ಫ್ರಾಂಕ್ಲಿನ್

೨. ಈ ದೇಶದಲ್ಲಿ ಪ್ರತಿ ಕುಟುಂಬದವರು ತಮ್ಮ ಮನೆಯ ಗಂಡು ಮಕ್ಕಳ ಸಂಖ್ಯೆಯನ್ನು ಪಟ್ಟವನ್ನು ಹಾರಿಸುತ್ತಾರೆ.

ಅ) ಶ್ರೀಲಂಕೆ ಆ) ಭಾರತ ಇ) ಜಪಾನ್ ಈ) ಆಸ್ಟ್ರೇಲಿಯ

೩. ಗಾಳಿಪಟದ ರಚನೆಯನ್ನು ಕಂಡುಹಿಡಿದಿದ್ದು.....

ಅ) ಹನ್ನನ್ ಆ) ಅಚಿಟಿಸ್ ಇ) ಐನ್ಸ್ಟೈನ್ ಈ) ಎಡಿಸನ್

೪. ಭಾರತದಲ್ಲಿ ಗಾಳಿಪಟವನ್ನು ಈ ಮಾಸಗಳಲ್ಲಿ ಹೆಚ್ಚಾಗಿ ಹಾರಿಸುತ್ತಾರೆ.

ಅ) ಚೈತ್ರ-ವೈಶಾಖ ಆ) ಆಷಾಡ-ಶ್ರಾವಣ  
ಇ) ಆಶ್ವಯುಜ - ಭಾದ್ರಪದ ಈ) ಪುಷ್ಯ-ಮಾಘ

೫. ಈ ದೇಶದಲ್ಲಿ ಗಾಳಿಪಟದ ಆಟವು ರಾಷ್ಟ್ರೀಯ ಆಟ ಎನಿಸಿದೆ.

ಅ) ಮಲೇಶಿಯ ಆ)ಭಾರತ ಇ) ಥೈಲ್ಯಾಂಡ್ ಈ) ಚೀನ

**II. ಕೆಳಗಿನ ಪ್ರಶ್ನೆಗಳಿಗೆ ನಾಲ್ಕು ಉತ್ತರಗಳನ್ನು ಕೊಡಲಾಗಿದೆ. ಅವುಗಳಲ್ಲಿ ಸರಿಯಾದ ಉತ್ತರವನ್ನು ಆರಿಸಿ ಬರೆಯಿರಿ. 1x7=7**

೧. 'ತೆಂಗಿನ ಕಂಗಿನ' ಈ ಪದದ ಸಮಾನಾರ್ಥಕ ಪದವಿದು.....

ಅ) ತೆಂಗು-ಅಡಿಕೆ ಆ) ತೆಂಗು-ಬಾಳೆ ಇ) ತೆಂಗು-ಮಾವು ಈ) ತೆಂಗು-ಹಲಸು

೨. 'ಕೀರ್ತಿ' - ಈ ಪದದ ವಿರುದ್ಧ ಪದ.....

ಅ) ಅಪಮಾನ ಆ) ಅಪರಾಧ ಇ) ಅಪಕೀರ್ತಿ ಈ) ಅಪರೂಪ

೩. 'ಮಾಡು' ಈ ಪದದ ನಾನಾರ್ಥಕ

ಅ) ತಯಾರಿಸು-ಛಾವಣಿ ಆ) ಸಮೂಹ-ಸಹವಾಸ ಇ) ನುಡಿ-ಆಣೆ ಈ)ತವಕ-ಆಸಕ್ತಿ

೪. ಮಕ್ಕಳು ಶಾಲೆಯಿಂದ ಮನೆಗೆ ಬೇಗ ಬಂದರು- ಈ ವಾಕ್ಯದಲ್ಲಿರುವ ಕಾಲ....

ಅ) ಭವಿಷ್ಯತ್ ಕಾಲ ಆ) ರಾಹುಕಾಲ ಇ)ಭೂತಕಾಲ ಈ) ವರ್ತಮಾನ ಕಾಲ

೫. 'ಮನುಷ್ಯ' ಈ ಪದದ ಬಹುವಚನ ರೂಪ....

ಅ) ಮನುಷ್ಯಂದಿರು ಆ) ಮನುಷ್ಯರು ಇ) ಮನುಷ್ಯರುಗಳು ಈ) ಮಾನುಷ

೬. 'ರಾಜ' ಎನ್ನುವುದರ ಸ್ತ್ರೀಲಿಂಗ ರೂಪ.....

ಅ) ರಾಯ ಆ) ರಾಜಿ ಇ) ರಾಜರು ಈ) ರಾಣಿ

2. 'ನೂರಾರು' ಈ ಪದವನ್ನು ಬಿಡಿಸಿದಾಗ.....

ಅ) ನೂ + ಆರು ಆ) ನೂರು + ಆರು ಇ) ನೂರಾ + ಆರು ಈ) ನೂ + ಆರಾರು

III. ಕೆಳಗೆ ಕೊಟ್ಟಿರುವ ಪ್ರಬಂಧಗಳಲ್ಲಿ ಯಾವುದಾದರೊಂದು ವಿಷಯದ ಬಗ್ಗೆ 3  
೧೦೦ ಪದಗಳಿಗೆ ಮೀರದಂತೆ ಬರೆಯಿರಿ.

೧. ನನ್ನ ನೆಚ್ಚಿನ ಕ್ರೀಡೆ ೨. ಗ್ರಂಥಾಲಯದ ಮಹತ್ವ ೩. ದೂರದರ್ಶನದ ಉಪಯೋಗ

IV. ಕೆಳಗೆ ಕೊಟ್ಟಿರುವ ಪ್ರಶ್ನೆಗಳಿಗೆ ಒಂದು ವಾಕ್ಯದಲ್ಲಿ ಉತ್ತರಿಸಿ.

1x4=4

೧. ರಾಮಕೃಷ್ಣ ಪರಮಹಂಸರು ನರೇಂದ್ರನನ್ನು ಯಾವ ಹೆಸರಿನಿಂದ ಕರೆದರು?

೨. ರವಿ ಏನನ್ನು ತೊಟ್ಟು ಶೃಂಗಾರದ ತಲೆ ಎತ್ತುವನು?

೩. ಬಾಲಕ ನರೇಂದ್ರನ ಮೇಲೆ ಏನು ಹರಿದು ಹೋಯಿತು?

೪. ರವಿ ಎಲ್ಲಿ ಕುಣಿದಾಡುವನು?

V. ಎರಡು-ಮೂರು ವಾಕ್ಯಗಳಲ್ಲಿ ಉತ್ತರಿಸಿ.

2x4=8

೧. ತೋಟದ ಮಾಲಿ ಮಕ್ಕಳಿಗೆ ಏನೆಂದು ಹೇಳಿದನು?

೨. ಎಳೆಯ ರವಿ ಕೂಡಲ ಕೋಣೆಯಲ್ಲಿ ಮಾಡುವ ಕೆಲಸವೇನು?

೩. ಸ್ವಾಮಿ ವಿವೇಕಾನಂದರು ಡಾಯರ್ಸ್‌ನಿಗೆ ಏನೆಂದು ಉತ್ತರಿಸಿದರು?

೪. ಮೇಲಕ್ಕೇರಿದ ರವಿ ನೀಡುವ ಸಂದೇಶವೇನು?

VI. ಈ ಮಾತನ್ನು ಯಾರು ಯಾರು ಹೇಳಿದರು? ವಿವರಿಸಿ.

3

೧. "ಪ್ರಾಣಿಗಳ ತಂಟೆಗೆ ಹೋಗದಿದ್ದರೆ ಅವು ನಮ್ಮನ್ನು ಏನೂ ಮಾಡುವುದಿಲ್ಲ."



# SINDHI HIGH SCHOOL, BENGALURU

PERIODIC TEST - 3, 2023-2024

SUBJECT: HINDI(Additional Language)

CLASS : 5

Max Marks:30

DATE: 9 /2/2024

READING TIME: 8AM to 8:10AM

NO of printed sides: 3

WRITING TIME: 8:10 AM to 9.10AM

[I]. निम्नलिखित गद्यांश को ध्यानपूर्वक पढ़कर बूछे गए प्रश्नों के सही विकल्प चुनकर लिखिए:

1x5=5

रात के लगभग एक बज चुके थे। शरद को अब नींद सताने लगी थी, लेकिन नींद को किसी तरह भगाने की कोशिश कर रहा था। रोज़ की तरह ही रोबोट दरवाज़े के पास अपनी जगह पर चुपचाप खड़ा था। शरद की आँखे जब नींद से बोझिल होने लगीं, तो उसने सोचा जाकर मुँह धो आए। उसने आगे की ओर कदम बढ़ाए ही थे कि अचानक उसने देखा, रोबोट अपने स्थान से धीरे-धीरे सरककर उसके कमरे की ओर बढ़ रहा है। यह देखकर उसे बहुत आश्चर्य हुआ। उसकी आँखों की नींद पलभर में उड़न-छू हो गई। वह दबे कदमों से रोबोट के पीछे चल दिया। कमरे में पहुँचकर उसने देखा कि रोबोट ने मेज़ पर से वह टीवीयुक्त पेन उठाया, जो कुछ समय पहले उसके चाचाजी अमेरिका से लाए थे और वापस अपने स्थान की ओर बढ़ने लगा।

1. नींद किसे आ रही थी ?

- i) शरद को      ii) चाचाजी को      iii) रोबोट को      iv) जादूगर को

2. रोबोट कहाँ खड़ा था?

- i) टीवी के पास      ii) दरवाज़े के पास      iii) अमेरिका में      iv) घर के बाहर

3. शरद को आश्चर्य क्यों हुआ?

- i) रोबोट अपने स्थान से कमरे की ओर बढ़ रहा था।      iii) रोबोट खाना खा रहा था।

ii) रोबोट सो गया था।

- iv) रोबोट खेल रहा था।

4. शरद दबे कदमों से किस के पीछे चल पड़ा ?

- i) रोबोट के      ii) कुत्ते के

- iii) बिल्ली के      iv) पापा के

5. चाचाजी अमेरिका से क्या लाए थे ?

- i) किताब      ii) खिलौना

- iii) टीवीयुक्त पेन      iv) कुछ भी नहीं

[II] नीचे दिए गए शब्दों के दो - दो पर्यायवाची शब्द लिखिए :

½ x4=2

1. उदयम      2. नुकसान



[III] विलोम शब्द लिखिए:

1x4=4

1. प्रिय
2. उपयोग
3. अभ्यास
4. लघु

[IV] दिए गए वाक्यों के काल पहचानकर लिखिए :

1x2=2

1. कई बच्चों को मोबाइल फ़ोन की बुरी लत लग जाती है।
2. रमेश ने मोबाइल फ़ोन से संदेशा भेजा था।

[V] समान तुकवाले शब्द लिखिए :

½ x4=2

1. कौन
2. मुख
3. बच्चे
4. फायदा

[X]. निम्नलिखित गद्यांश को ध्यानपूर्वक पढ़कर पूछे गए प्रश्नों के सही विकल्प चुनकर लिखिए:

1x5=5

गुलीवर का जहाज तूफ़ान में फँसकर चकनाचूर हो गया। गुलीवर तैरकर किनारे आ गया और थककर वहीं लेट गया। जब उसकी नींद खुली, तो उसने अपने-आप को पतले-पतले धागों से बँधा पाया। वह आश्चर्य में पड़ा सोच रहा था कि कोई चीज़ उसके पैरों पर रेंगती-रेंगती उसकी छाती पर आ खड़ी हुई। यह एक मानव आकृति थी, छोटी-सी, लगभग एक बालिशत ऊँची। उसी प्रकार के सैकड़ों प्राणी उसके शरीर पर चढ़ गए। अब उन प्राणियों ने गुलीवर पर सूई जैसे पतले-पतले तीरों की वर्षा आरंभ कर दी। बाद में उसे लिलिपुट ले गए। लिलिपुट के बादशाह ने गुलीवर की मक्ति लिलिपुट की रक्षा करने की शर्त पर की। कुछ दिनों बाद ज्ञात हुआ कि पड़ोसी देश ब्लेफुस्कू के बादशाह ने एक शक्तिशाली जहाज़ी बड़ा तैयार कर लिलिपुट पर चढ़ाई करने का अवसर देख रहा था। गुलीवर ने लिलिपुट वासियों की सहायता की योजना बनाई। गुलीवर कुछ रस्सियाँ और काँटे लेकर ब्लेफुस्कू की खाड़ी में घुसकर वहाँ खड़े जहाजों को काँटों में फँसाकर खींचकर लिलिपुट ले गया।

1. जहाज के टूटने पर गुलीवर किनारे पर कैसे आया ?

- (i) तैरकर (ii) नाव से (iii) बहते हुए (iv) चलकर

2. जब गुलीवर की नींद खुली तो उसने खुद को किस से बाँधा पाया ?

- (i) रस्सियों से (ii) जंजीरों से (iii) पतले-पतले धागों से (iv) खुला था

3. क्या चीज़ गुलीवर के पैरों से रेंगते-रेंगते गुलीवर की छाती पर आ खड़ी हुई ?

- (i) चींटी (ii) मानव आकृति (iii) गुड़िया (iv) चूहा

4. गुलीवर नन्हे लोगों के किस द्वीप पर पहुँच गया ?

- (i) ब्लेफुस्कू (ii) लिलिपुट (iii) श्री लंका (iv) पूर्वी द्वीप समूह

5. गुलीवर किस देश के जहाजों को खींचकर लिलिपुट की खाड़ी में ले गया ?

- (i) अरब (ii) ब्लेफुस्कू (iii) म्याँमार (iv) नेपाल

[XI] नीचे दिए गए प्रश्नों के उत्तर लिखिए -

1x6=6

1. मोबाइल फोन के किन्हीं तीन एप्स का नाम लिखिए।
2. संचार का सबसे आसान साधन किसे कहा गया है ?
3. आजकल हमारा सबसे प्यारा साथी कौन बन गया है ?
4. मूर्ख व्यक्ति बुद्धिमान कैसे बन सकता है ?
5. हमें कैसी बोली बोलनी चाहिए ?
6. विद्या रूपी धन पाने के लिए क्या करना चाहिए ?

[XII] दिए गए चित्र को ध्यान से देखिए और उसके बारे में पाँच वाक्य लिखिए -

4





SINDHI HIGH SCHOOL, KK ROAD, BENGALURU- 1

PERIODIC TEST – 3(2023-24)

SUBJECT: MATHEMATICS

Class 5 A/B/C

Max marks: 30

Date: 13 /2/2024

Reading time: 8 to 8:10am

Number of printed sides: 3

Writing time: 8:10 to 9:10am

General instructions:

- Write your name, roll number, class and section, date and subject clearly in your answer script.
- Write the page number on the right hand side top corner of each side of the paper.
- All questions are compulsory.
- This Question Paper has 5 sections:
  1. **Section A** has 6 MCQ's of 1 mark each.
  2. **Section B** has 3 questions of 2 marks each.
  3. **Section C** has 3 questions of 3 marks each.
  4. **Section D** has 1 question of 5 marks each.
  5. **Section E** has 1 case study based question carrying 4 marks.

**SECTION A**

Choose the correct alternative:

(1X6=6)

1. The digit in the tenth place of 82.356 is-  
a) 5 b) 8 c) 3 d) 6
2. 92 minutes = \_\_\_\_\_ hour and \_\_\_\_\_ minutes  
a) 1 hr 32 min b) 1hr 10min c) 1 hr 15 min d) 1 hr 22 min
3. 3 hours 25 minutes = \_\_\_\_\_ minutes  
a) 215 min b) 205 min c) 225 min d) 250min
4. The smallest decimal number amongst the following is-  
a) 3.82 b) 3.78 c) 3.67 d) 3.5
5. 8.57 \_\_\_\_\_ 8.75  
a) > b) < c) = d) +
6. Subtract: 8 hours 25minutes from 11 hours 30 minute  
a) 2hr 5min b) 1hr 15min c) 3hr 5 min d) 3 hr 15 min

**SECTION B****(2x3=6)**

7. A tailor needs 52.18cm of white lace for Richa's skirt and 75.85cm of same lace for the top. How much lace does he need in all?
8. Convert:
- a) 15days into hours
- b) 4 hours into minutes
- 9) Calculate the ending date, if starting date is 16<sup>th</sup> September and number of days is 32.

**SECTION C****(3x3=9)**

- 10) One can of juice costs ₹ 30.5, how much will Ravi has to pay for
- a) 6 cans    b) 8 cans
- 11) Ronit climbed up a height of 700.76M in a mountaineering expedition, while Ratan climbed 746.23M for the same. Who has climbed higher and by how much?
- 12) Calculate:
- a) The finishing time, if the starting time is 8.30a.m and time taken is 4 hours 10 minutes.
- b) The starting time, if the time taken 2 hours and the finishing time is 6.45 p.m

**SECTION D****(5 Marks)**

12)

- a) Ayush left for Australia on 28th December 2023. And came on 25<sup>th</sup> March. 2024  
How long did he remain out of town? (Including the given date)
- b) Alia was discharged on 8<sup>th</sup> Dec from the hospital after 46days. On which date was she admitted there?

SECTION E

(4 Marks)

Answer the following Case Study:

14) Supriya purchased few items from the stationery shop. The details are as follows:

SL.No.	Items	Amount
1.	Note book	₹ 36.50
2.	Pencil box	₹ 45.75
3.	Eraser	₹ 2.50

- What would be the cost if Supriya purchased only a Note book and a Pencil box?
- What is the total amount spent?
- Find the cost of 6 erasers.



## SINDHI HIGH SCHOOL

K.K. ROAD BENGALURU -01(2023-2024)

### Periodic Test 3

Subject: Social Science

Name: \_\_\_\_\_

Class: V A/ B/ C

Roll no: \_\_\_\_\_

Date : 12/02/2024

Marks: 30

Reading time: 8:00-8:10

Writing time : 8:10-9:10

No of sides printed: 2

QI. Choose the correct option :

(1x5=5)

1. English East India company set up their first trading post at \_\_\_\_\_ in Gujarat.  
a) Surat b) Ahemdabad c) Porbandar d) Gandhinagar
2. 23<sup>rd</sup> of January 1943 is celebrated as \_\_\_\_\_ by the sindhis every year to keep his memory alive and to inspire the youth of today.  
a) Slogan day b) black day c) martyrdom day d) martial law day
3. The magnitude of an earthquake is measured on the \_\_\_\_\_.  
a) Rare scale b) Ritcher scale c) length scale d) Ramond's scale.
4. The \_\_\_\_\_ gave the government the power to arrest anyone and send him/her to jail without trial.  
a) Doctrine of Lapse b) Independence Act c) Rowlatt Act d) Divide and rule.
5. Swami Vivekananda found the \_\_\_\_\_ which works for social upliftment education and reforms till date.  
a) Arya Samaj b) Ashrams c) Brahma Samaj d) Ramakrishna Math

QII. True or false:

(1x4=4)

1. The Ali Brothers started the Khilafat movement in Bombay.
2. The Slogan on the tricolour flag was "Simon Go Back".
3. The Enfield rifles are used by them was believed to be greased with the fat from cows and pigs.
4. When earthquakes occurs under the sea or ocean it displaces large amount of hot lava.

QIII. Complete the crossword with the help of clues:

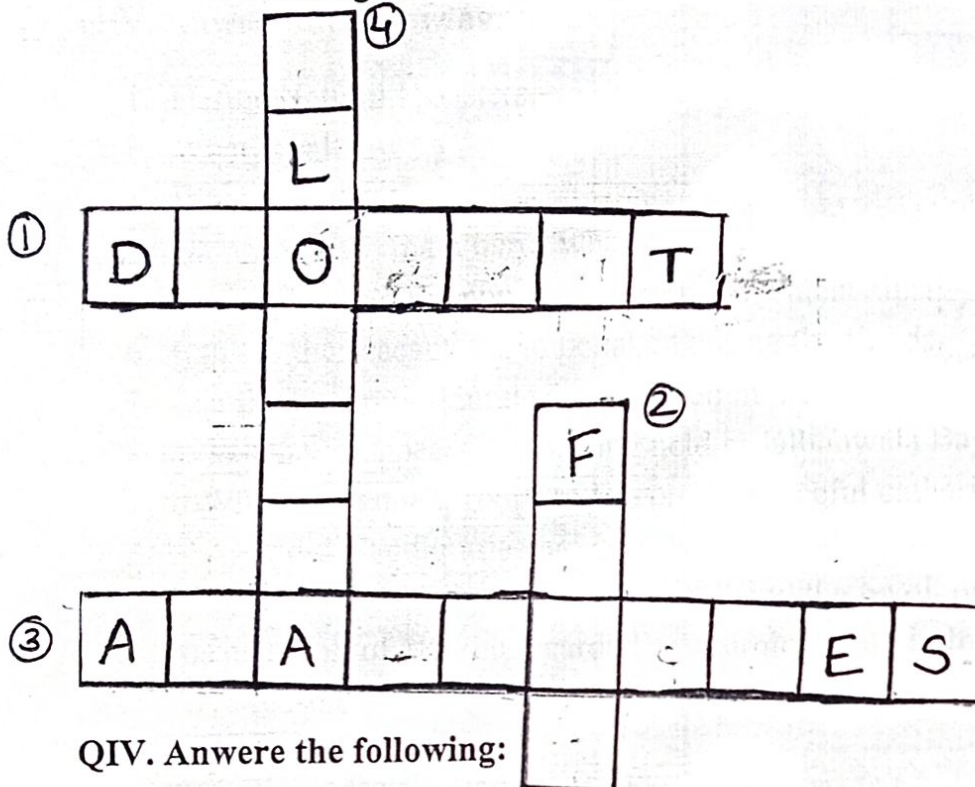
(1x4=4)

Across : 1. Refers to a period of dryness due to absence of water.

3. Masses of snow , ice and rocks fall down a mountain side.

Down : 2. Cyclone struck in 2019

4. Submerge the surrounding area with water.



QIV. Answer the following:

1. Define Natural Disasters. (1)
2. What is salt law? (1)
3. What is 'Sati' ? (1)
4. Name any two main heroes who headed the revolt of 1857. (1)
5. Gandhiji call of the non-cooperation movement -Justify (1)
6. Explain the precautions to be taken during the floods. (2)
7. List the two important decisions taken in the Lahore session. (2)
8. a) When was a peaceful meeting held in Jallianwala Bagh ? (3)  
b) Who ordered the troops to fire on the peaceful gathering?  
c) What did Gandhiji declare on hearing the news of this act?
9. a) Give reason for the discontent that led to the revolt of 1857 (any 3). (3)  
b) The revolt of 1857 is regarded as a turning point in Indian history.-  
Give reason (2)



SINDHI HIGH SCHOOL, K.K.ROAD, BENGALURU-01

PERIODIC TEST 3: (2023-2024)

SUBJECT- SCIENCE

Class: V

Date: 07-02-2024

No. of sides: 02

Max Marks: 30

Timings: 8:00 am to 9:10 am

Reading Time: 8:00 am to 8:10 am

Writing Time: 8:10 am to 9:10 am

General instructions:

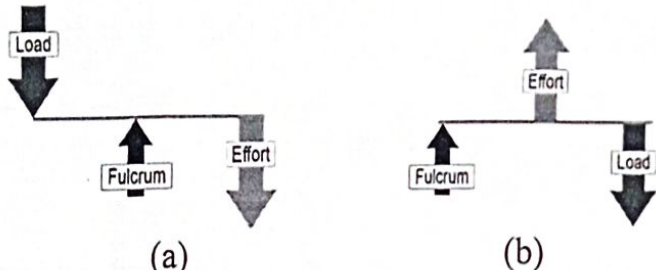
Write your name, roll number, class, section, date and subject clearly in your answer script.

Write the page number on right hand side top corner of each side of the paper.

All questions are compulsory.

I	<b>Complete the analogy.</b> 1. Overgrazing: _____ :: crop rotation: soil conservation 2. Bulb : light energy:: car battery: _____ 3. Agricultural field: _____ ::Riverbeds: embankment 4. Refrigerator door: _____ :: Crane: mechanical force.	4*1=4
II	<b>Fill in the blanks.</b> 1. Bhakra Dam across the _____ river provides water for irrigation. 2. The continuation of deposition of _____ increases the level of the river bed. 3. Energy produced by drilling wells to the innermost part of the earth is called _____. 4. An elastic material will _____ when a force is applied on it.	4*1=4
III	<b>Match the following.</b> 1. Humus 2. Runners 3. Screw 4. Wheel and axle a. Revolving inclined plane b. Bicycle c. Nutrients d. Fibrous roots	4*1=4



IV	<p><b>Differentiate between the following.</b></p> <ol style="list-style-type: none"> <li>1. Kinetic energy and potential energy</li> <li>2. Deforestation and afforestation</li> </ol>	2*2=4
V	<p><b>Answer the following.</b></p> <ol style="list-style-type: none"> <li>1. What is a lever? Identify the class of lever in fig a and b and mention one example of each.</li> </ol> <div style="text-align: center;">  </div> <ol style="list-style-type: none"> <li>2. a. You have to load boxes onto a truck .You are not able to lift the boxes. Which simple machine can help you do this? Why?</li> <li>b. Is the work done in the above case? Give reason for your answer.</li> <li>3. a. Give reason: <ol style="list-style-type: none"> <li>i) Agricultural land of hilly areas are made into steps.</li> <li>ii) A ball thrown up in the air falls down.</li> <li>iii) People use banana skins to push their boats from land to water.</li> </ol> </li> </ol>	<p>3*3=9</p> <p>1 2</p> <p>2</p> <p>1</p> <p>3</p>
VI	<ol style="list-style-type: none"> <li>a) List any four factors on which the weathering depends.</li> <li>b) i. Draw a neat labeled diagram of layers of soil. ii. Name the layer that contains unweathered rocks.</li> </ol>	<p>2</p> <p>3</p>